

Pruebas de Acceso a Estudios de Grado- P.A.E.G.

Materia: **Geografía**

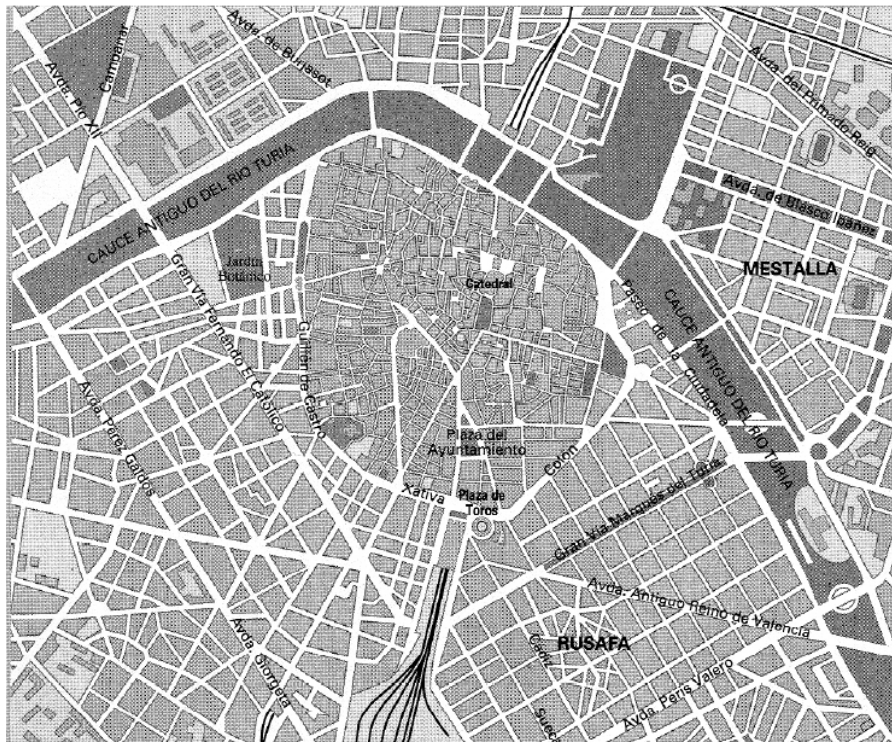
Este examen consta de dos opciones, opción A y B. El alumno deberá contestar **sólo a una de ellas**. Como criterio general de corrección para el conjunto de la prueba se valorará la presentación, la ortografía y la redacción.

### OPCIÓN A:

#### **I. PRÁCTICA (Puntuación: 3 puntos)**

Analice el plano de la ciudad que se adjunta, comentando al menos:

- 1.- Situación y emplazamiento de la ciudad. Morfología.
- 2.- Evolución: Localización y comentario del casco antiguo.
- 3.- Ensanche, periferia, etc.



#### **II. TEMA (Puntuación: 3 puntos)**

Desarrolle el siguiente tema:

- Unidades del relieve: relieves exteriores: Cordilleras, depresiones y relieve insular.

-----

#### **III. CONCEPTOS (Puntuación: 2 puntos)**

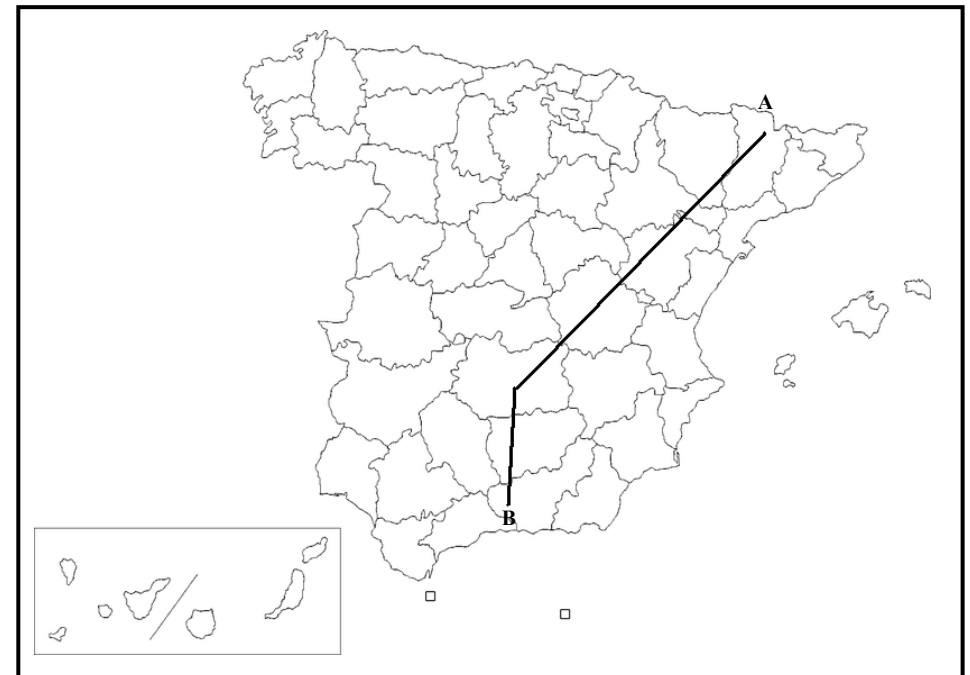
Defina con la mayor precisión posible, y de forma breve, estos **cuatro** conceptos e indique, siempre y cuando sea posible, un ejemplo relativo a España o a Castilla-La Mancha:

- Meridiano; Padrón; Albufera; Ganadería extensiva.

-----

#### **IV. LOCALIZACIÓN (Puntuación: 2 puntos)**

Cite las cordilleras, ríos y provincias que atraviesa la línea desde “A” hasta “B”.



Pruebas de Acceso a Estudios de Grado- P.A.E.G.

Materia: **Geografía**

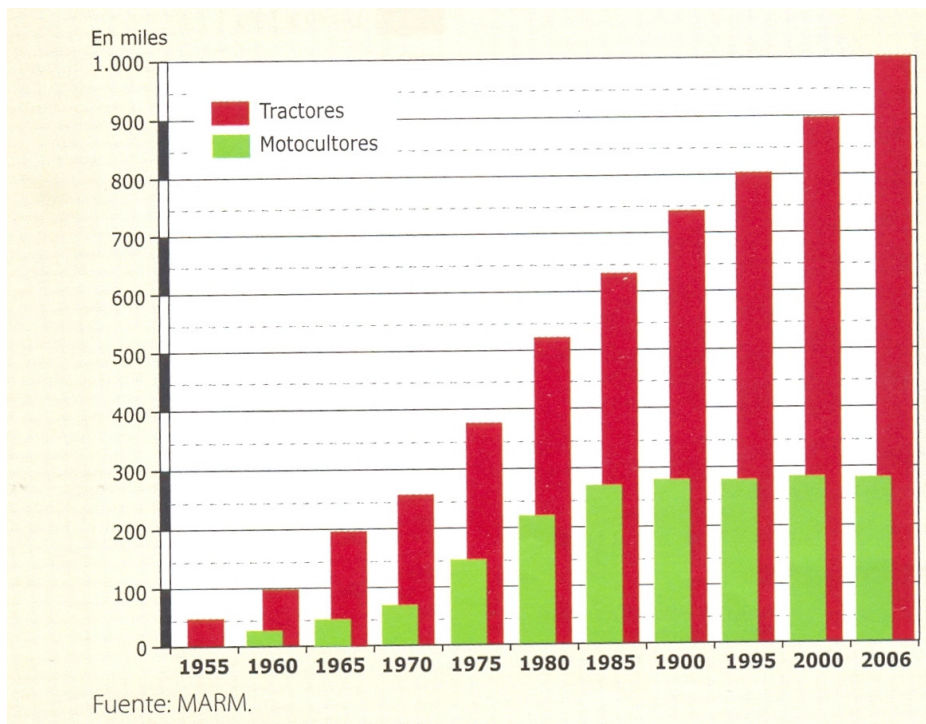
Este examen consta de dos opciones, opción A y B. El alumno deberá contestar **sólo a una de ellas**. Como criterio general de corrección para el conjunto de la prueba se valorará la presentación, ortografía y redacción

## OPCIÓN B:

### I. PRÁCTICA (Puntuación: 3 puntos)

Atendiendo al siguiente gráfico de la evolución de la maquinaria agrícola, responda:

- 1.- Evolución de tractores y de motocultores
- 2.- Relacione la evolución con el proceso general de modernización agraria.



### II. TEMA (Puntuación: 3 puntos)

Desarrolle el siguiente tema:

- La movilidad espacial de la población. Evolución y características hasta finales del siglo XX: transcontinentales, internacionales, interiores. Los movimientos espaciales en la actualidad: emigración, inmigración, movimientos pendulares.

-----

### III. CONCEPTOS (Puntuación: 2 puntos)

Defina con la mayor precisión posible, y de forma breve, estos **cuatro** conceptos e indique, siempre y cuando sea posible, un ejemplo relativo a España o a Castilla-La Mancha:

Energía renovable; Falla; Landa; FEDER.

-----

### IV. LOCALIZACIÓN (Puntuación: 2 puntos)

Cite las cordilleras, ríos y provincias que atraviesa la línea desde "A" hasta "B".

